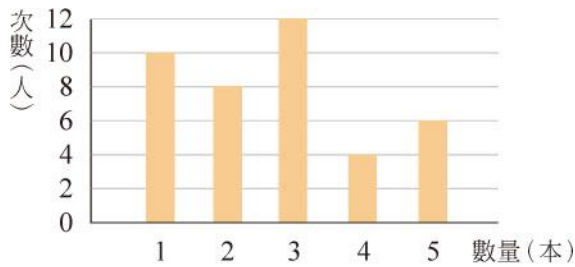


重點 1 常見統計圖表

1. 下圖是某班學生 3 月分到圖書館借書的數量統計長條圖，若三年甲班有 40 人，回答下列問題：

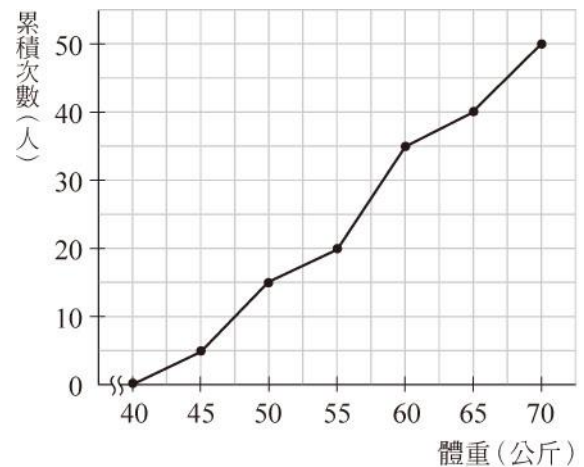


該班學生 3 月分借書數量的長條圖

- (1) 借 2~4 本書的學生共有_____人。
- (2) 借 5 本書的學生占全班的百分率是_____ %。
- (3) 製作該班學生 3 月分借書數量的折線圖。
- (4) 製作該班學生 3 月分借書數量的圓形圖。

重點 2 次數分配與累積次數分配

1. 下圖是三年二班學生英文成績的累積次數分配折線圖，回答下列問題：

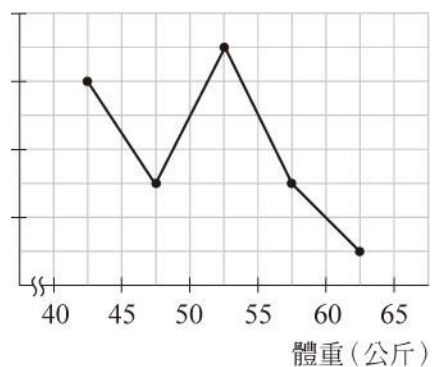


該班學生體重的累積次數分配折線圖

- (1) 體重未滿 55 公斤的有_____人。
- (2) 體重在_____公斤人數最多。
- (3) 體重在 50~60 公斤的人數占全班的百分比是_____ %。

重點 3 相對次數分配與累積相對次數分配

1. 下圖是某班學生體重的相對次數分配折線圖，若 50~55 公斤有 21 人，回答下列問題：



該班學生體重的相對次數分配折線圖

- (1) 全班共有_____人。
- (2) 體重在 40~50 公斤的人數占全班的百分比是_____ %。
- (3) 體重在_____公斤的人數最多。
- (4) 體重在 55 公斤以上有_____人。