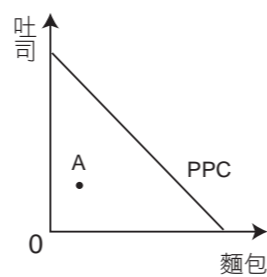




一、基本題 (每題 5 分, 35 分)

1. 禮物的選擇往往是個難題, 如果不幸送給對方不需要或其不喜歡的東西, 往往會造成尷尬的情況, 因此有些人便開始贈送一些能讓受贈者自己選擇內容的禮物。下列禮物中, 受贈者能選擇的範圍, 何者「最小」?
(A) 到百貨公司即能換取同等價值商品的禮券 (B) 已儲值一千元的韓國天團客製化的悠遊卡
(C) 僅能在學校校慶園遊會當天使用的園遊券 (D) 已經結帳且今明兩天可領取的蛋糕訂購單
2. 小安有甲、乙、丙三份工作機會, 將其機會成本繪製如右表。若小安在繪製表格時僅以該工作的薪資為考量, 根據表中內容判斷, 甲、乙、丙工作的薪資, 從低到高, 依序為何?
(A) 甲、乙、丙 (B) 丙、甲、乙
(C) 甲、丙、乙 (D) 乙、甲、丙
- | 工作 | 機會成本 |
|----|------|
| 甲 | 乙的薪資 |
| 乙 | 丙的薪資 |
| 丙 | 乙的薪資 |
3. 「資源要如何分配, 配置到需要的人身上」是一門學問, 也是決策者面臨的難題。對此有人主張用「先來後到、先占先贏」方式來決定, 而不是用市場機制或是隨機的抽籤。透過此種方式決定資源的分配, 將有利於何種人士?
(A) 時間成本較低 (B) 經濟資本充裕 (C) 當天機運較佳 (D) 掌握決策權力
4. 近年來, 我國積極推動「國防自主」的政策。這項政策, 雖要投入大量金錢與人力成本進行研發生產, 卻未必能有成效, 但政府仍認為其可帶動國內相關產業的整合發展、提供工作機會並確保後勤維修等目標而決定推動。依據上文, 可以看出政府在推動國防自主的政策時, 主要考慮的重點為何?
(A) 分配與正義 (B) 價格與權力 (C) 成本與效益 (D) 公平與效率
5. 機會成本是資源做某一用途時, 放棄可以做的「其他用途中最高價值者」。不過與此相對的概念是「沉沒成本」, 指已經付出且不可收回的成本, 也不能由現在或將來的任何決策改變的成本。高中生阿助升上高二選擇了「人文社會」班群, 下列何者最不可能是阿助將面臨的機會成本?
(A) 高一花很多時間的化學課程 (B) 高二要繳交的各项學雜費用
(C) 高二無法上到的物理選修課 (D) 未來理工科系選擇機會降低
6. 小明每天均利用總共 30 斤的麵粉以及兩臺烤箱, 來生產麵包與吐司這兩項產品, 其生產可能曲線 (PPC) 如右圖所示。若今天的麵包與吐司的產出數量落在 A 點, 在各產品的品質、大小以及其他條件不變下, 造成這樣結果的原因可能為何?
(A) 使用了總計 50 斤的麵粉, 以投入生產麵包以及吐司
(B) 運用了 15 斤麵粉來生產麵包, 15 斤麵粉來生產吐司
(C) 因為牆上插座被占用, 因此只能使用一臺烤箱來生產
(D) 為了因應未來的新訂單, 再多增加一臺烤箱進行生產



成本效益項目	金額
觀光收入增加	1,000 萬元
機場服務費收入增加	200 萬元
土地徵收費用	500 萬元
外包廠商興建支出	300 萬元
臨時行政人員薪資支出	200 萬元

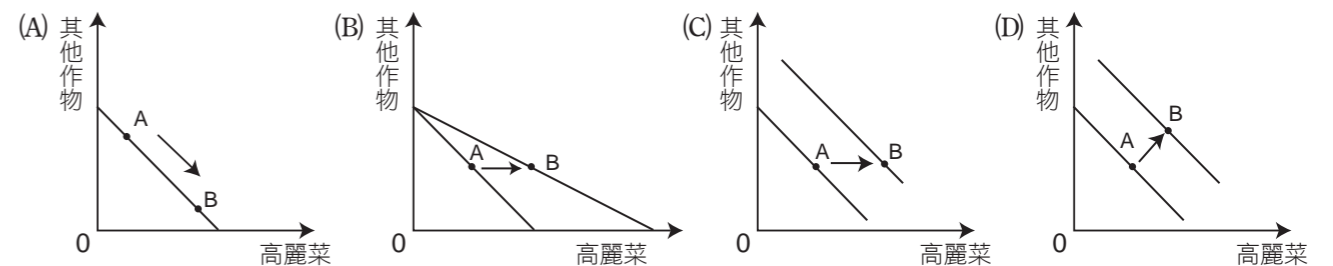
7. 以下為大湖國政府對於機場擴建計畫的成本效益評估, 下列對於此評估結果的敘述何者正確?
(A) 從評估面向可以看出, 政府對於公共建設公平性的衡量
(B) 本項公共建設的總效益大於總成本, 興建可帶來淨效益
(C) 政府應將預算資源撥用至此, 較投注其他用途更有效益
(D) 成本效益衡量以政府為主體, 只需評估政府收入與支出

二、情境題 (每題 5 分, 共 40 分)

8. 近年來, 我國社會遇到少子化問題, 政府對此祭出多項政策, 例如: 提高生育補助、推動相關托育政策, 雖然獲得多數民眾肯定, 但出生率仍偏低。對於出生率偏低的原因, 若以經濟學的觀點來解釋, 下列何項說法最為合理?
(A) 政府的獎勵政策無法解決生產什麼、如何生產、為誰生產的問題
(B) 民眾不認同政府的獎勵政策, 因此透過拒絕生育作為抗議的方式
(C) 民眾投入生育的機會成本過高, 獎勵政策仍無法改變民眾的選擇
(D) 由於資源有限、慾望無窮, 因此政府獎勵政策改變了民眾的選擇
9. 新聞報導表示, 大賣場宣布衛生紙每袋自明天起調漲 20 元, 從原本 100 元變為 120 元。小忠聽到後很緊張, 於是向打工單位請假 1 小時 (時薪 160 元), 準備出門購物, 最後買了 2 袋衛生紙回家。不考慮其他的成本支出與項目, 針對小忠的行為, 如果以機會成本的觀點來整體評論分析此行為, 下列敘述何者最適合?
(A) 值得稱許, 因為打工的時薪明顯低於去買衛生紙的機會成本
(B) 值得稱許, 因為相較於漲價後, 現在買可以賺到 40 元的差價
(C) 覺得不值得。因為買衛生紙的機會成本, 多於去打工的機會成本
(D) 覺得不值得。因為打工獲得的薪資明顯高於買衛生紙的總和花費
10. 某國家有 7% 的獨居人口長期受孤獨之苦, 該國政府因而決定設立新部門, 專責處理獨居者因缺乏社會互動而產生的身心健康需求, 也獲得不少公益團體的支持。下列針對公益團體對於該政策的主張中, 何者最可能作為該國設立獨居者專責部門的理由?
(A) 國家促進國民利益的方式眾多, 但經費有限, 故要做選擇
(B) 由政府公權力進行國家資源分配規劃及應用, 其效率最高
(C) 國家決策應促進全體國民福祉, 並重視弱勢者的處境待遇
(D) 國家決策時應做成本效益分析, 並考量該政策之機會成本
11. 地方政府每年在編預算時, 都會編列「議員所提地方建設建議事項」的預算額度, 亦即所謂的「議員建議款」, 是指政府規劃一筆錢, 讓議員們建議政府要將錢花在哪些項目。雖然決定權在地方政府, 但由於預算需要經過議會的審核與查證, 地方政府多半會同意配合議員。然而實際運作中, 不少利益團體便會施壓議員, 甚至配合議員將錢用於補助幾個特定團體、與特定數家廠商進行交易、興建不具公益性質的建設, 例如處處可見蚊子館等。針對議員建議款的運作結果, 下列敘述何者最為符合?
(A) 可以做為肉桶立法在我國發生的具體實際案例
(B) 呈現出政府的政策是為了謀求多數民眾的福祉
(C) 凸顯政府考量政策時是以社會處境不利者為主
(D) 人民不理解政策而委請議員代為主導公共事務

資訊一: 今年夏季颱風不斷, 市場上的高麗菜價格節節高漲, 每顆高麗菜突破百元, 農民們知道消息後, 影響了他們的種植行為。
資訊二: 為了因應農民的種植行為, 農委會推出高麗菜生產登記制, 藉此了解目前高麗菜的生產狀況, 以免未來產銷失衡, 也做為後續政策調整的依據, 避免菜賤傷農, 保護農民的收益。

12. 依據資訊一判斷, 農民受到影響後的種植行為, 其生產可能曲線的前後變化圖, 應是下列何者?



13. 依據資訊二判斷，我國國內後續短期內最可能會出現何種情形？

- (A) 在全臺各地的農田中，都能看到白花椰菜的種植
- (B) 新聞提到，由於價格因素，使農民不願種高麗菜
- (C) 農委會發布現有高麗菜的生產數據，鼓勵多種植
- (D) 各地農會鼓勵農民改種青花菜，減少種植高麗菜

地方政府每年均有規劃一筆社福經費，用以推動老人社會福利政策。甲地方政府就將此用於重陽節的禮金發放，只要年滿 65 歲，不分貧富均可獲得 1,500 元之禮金。乙地方政府則是用於補助一些團體，讓他們帶領長輩從事一些活動。某社區里長便是在獲得乙地方政府補助後，成立長青班並帶領一群長輩從事手工提包的製作，做出栩栩如生的「鮮魚包」和「蔬菜包」，並從事販售，廣受年輕人的好評。下表為 1 小時中，長青班生產鮮魚包與蔬菜包的最大生產可能組合。

組合	A	B	C	D	E	F
蔬菜包	0	1	2	3	4	5
鮮魚包	15	14	12	9	4	0

14. 甲乙兩地方政府對於社福經費有不同運用方式，依據文中內容判斷，下列敘述何者正確？

- (A) 由於社福經費有限以及有專屬的運用要求，因此有不同的規劃運用
- (B) 地方政府規劃運用社福經費方案的依據，乃是基於市場價格的考量
- (C) 甲地方政府運用社福經費的政策決定，可改善社會貧富不均的問題
- (D) 乙地方政府可能經過成本效益分析後，才決定將經費用於補助團體

15. 依據表格內容，下列相關之敘述何者正確？

- (A) 藉此可以發現到生產兩種產品之間，存在著取捨關係
- (B) 組合 B 生產的總量比組合 E 多，因此組合 B 較有效率
- (C) 如果要生產第 3 個蔬菜包，其機會成本是 9 個鮮魚包
- (D) 組合 A 能生產最多的蔬菜包與鮮魚包，代表效率最大

三、素養長文題組（每題 5 分，共 25 分）

由於醫療行為涉及專業性，因此世界各國看病費用均不便宜。某國醫療院所主要由民間經營，再由政府進行價格調整。該國政府為避免一般民眾因醫療服務昂貴而怯於就醫，因此創立全民健康保險制度，補助民眾就醫費用。例如：針對 A 病，醫療費用應為 900 元，由於健保的補助，民眾看 A 病，只要負擔 200 元即可。這樣的政策照顧了人民的需求，達到提升國民健康的目的，許多民眾也對此政策感到滿意。

但此政策也有負面影響，由於政府要求各醫療院所必須將醫療服務價格抑制在原先應有價格的三分之一。例如：原先看 A 病，醫生可以獲得 900 元的報酬，但推行全民健保後，醫生僅能獲得 300 元的報酬，嚴重打擊醫界的士氣與服務意願，此外也因為有政府補助，民眾常因小病而前往大醫院就醫，導致大醫院負荷過重，無法悉心處理較為嚴重的病患。

此制度實際運作後，政府發現了一些問題，經過成本效益分析後，決定改變政策。除增加民眾應繳交的健保費用外，也調漲醫療服務價格到應有價格的二分之一，並調整補助制度，希望透過價格機制，讓生病民眾先從住家附近的診所就醫，若有需要才轉診至大醫院，而非直接前往大醫院。此改變引來少數民眾的不滿，而大多數的醫療人員對於此改變也有意見。依據上文回答以下問題：

16. 政府實施改變民眾就醫行為的制度，最有可能是下列何者？

- (A) 先取得醫院同意書，再由診所開立轉診書始可至大醫院就診
- (B) 提高大醫院的就醫費用，並要求符合轉診流程才可給予補助
- (C) 要求醫院依據民眾居住地的距離，建立專屬家庭醫師之制度
- (D) 依據門診掛號先後順序，排定民眾接受醫療服務的時間長短

17. 政府改變政策，引發的後續效應，下列何種現象最為符合？

- (A) 醫療服務價格雖然提高，但民眾擔心醫院會因此增加，造成選擇困難
- (B) 雖然增加醫生行醫的意願，但也引發經濟弱勢者無法負擔保費的擔憂
- (C) 新政策提高了健保費用，顯現政府僅考量政策成本但卻忽略民眾感受
- (D) 新政策提高了醫療服務費用，讓多數的醫療人員對於此改變表達滿意

2019 年 11 月，中國武漢爆出不明原因肺炎，不久後全球各地也開始出現疫情。由於這是前所未見的全新冠狀病毒，面對未知的敵人，民眾搶買口罩，造成口罩缺貨，我國政府下令禁止口罩出口並管制口罩的生產與配送。

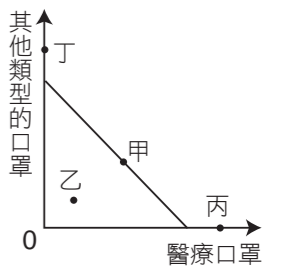
由於適逢農曆新年放假，故政府協調超商販售口罩，但並未限制人民購買口罩的次數，因此人民愈早去排隊，愈有機會能買到口罩，所以多數的民眾仍是一罩難求。之後政府推動口罩實名制，要求民眾憑藉健保卡到藥局購買口罩，並限制每人每周只能買 3 片。雖然讓民眾不用再花許多時間去詢問每一間超商，且每天早上 9 點才開賣，但由於口罩仍是供不應求，因此民眾還是需要一大清早在藥局排隊領號碼牌，9 點才能買到口罩。

政府同時也積極協調國內廠商共同增加口罩的生產，除了要求停止生產其他類型，專心做醫療等級的口罩外，也增建口罩的生產線，讓原本我國每日口罩生產 188 萬片的醫療口罩，到 2020 年 3 月能達到每日生產 1,000 萬片的醫療口罩。

18. 施行口罩實名制之後，下列何者購買口罩的機會成本最小？

- (A) 為趕早上 6 點火車上班通勤的甲
- (B) 早上 6 點半起床後便無計畫的乙
- (C) 早上 7 點開始營業做早餐生意的丙
- (D) 早上沒有行程規劃但只想睡覺的丁

19. 右圖為 2019 年 7 月我國口罩生產的生產可能曲線圖，請問哪一點最有可能為 2020 年 4 月 1 日時，我國口罩的生產組合點？



- (A) 甲
- (B) 乙
- (C) 丙
- (D) 丁

20. 根據上述說明，請問：

- (1) 由於口罩供不應求，政府需要訂定分配的方式，來決定哪些人可以得到口罩，這種考量在經濟學上被稱為是什麼？（2 分）
- (2) 因此政府推動口罩實名制販售，設法讓更多民眾能擁有口罩，但口罩實名制卻引發反彈，有人認為既然實名制無法改善既有的問題，為何不以價格決定口罩的取得，在競爭下由出價高者得，政府與反彈者的意見分別是基於什麼原則的考量（25 字內，3 分）？

作答區

18.	A <input type="checkbox"/>	B <input type="checkbox"/>	C <input type="checkbox"/>	D <input type="checkbox"/>
19.	A <input type="checkbox"/>	B <input type="checkbox"/>	C <input type="checkbox"/>	D <input type="checkbox"/>
20.	(1) 方式		(2) 立場考量 (25 字內)	